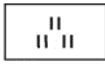


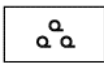
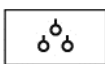

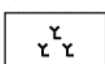

















基本問題

下の地図記号は何をあらわしているか。空欄の箇所に書き入れなさい。

土地利用			
	<input type="text"/>		<input type="text"/>
	<input type="text"/>		<input type="text"/>
	<input type="text"/>		<input type="text"/>
	<input type="text"/>		
建物・施設			
	<input type="text"/>		<input type="text"/>
	町・村役場 (指定都市の区役所)		<input type="text"/>
	官公署		<input type="text"/>
	<input type="text"/>		<input type="text"/>
	<input type="text"/>		<input type="text"/>
			<input type="text"/>
			水準点
			<input type="text"/>
			<input type="text"/>
			<input type="text"/>

発展問題

次の A~D の地図記号は何をあらわすか、書きなさい。

- |   |   |   |   |   |   |   |   |
|---|---|---|---|---|---|---|---|
| A |  | B |  | C |  | D |  |
| E |  | F |  | G |  | H |  |

A	<input type="text"/>	B	<input type="text"/>	C	<input type="text"/>	D	<input type="text"/>
E	<input type="text"/>	F	<input type="text"/>	G	<input type="text"/>	H	<input type="text"/>